

4^E ANNÉE – ACTIVITÉS INTERACTIVES

Corrigé d'activité pour les enseignants



Leçon H – Activité 1

Créer une ligne du temps de la chaîne des traités

Directives
En dyades, choisissez un Traité ou un événement et présentez-le à la classe.

1760

1725

1726

1728

1752

1749

1779

1763

1762

1776

Précédent

Suivant







1749

Commission royale d'enquête sur les droits autochtones (pas un traité)

Les peuples autochtones sont
des peuples distincts et
peuvent faire la paix et
la guerre sans être contrôlés
par les Anglais.

◀ Précédent

Suivant ▶



1749

Renouvellement du Traité de Mascarene


Signé à la rivière Saint-Jean

Signé par les Wolastoqewiyik et les Mi'kmaq de Chignecto seulement. Les autres ont refusés.

Statue du gouverneur Cornwallis

Halifax

La guerre continue. Le gouverneur Cornwallis offre de l'argent pour les scalps des Autochtones.



◀ Précédent

Suivant ▶



1752

Jean Baptiste Cope

Traité de paix et d'amitié Shubenacadie

Les peuples Wabanaki sont libres de leurs mouvements pour chasser et pêcher là où ils veulent, et peuvent se faire bâtir une maison de troc pour y échanger des biens. A été signé par un seul Chef, **Jean-Baptiste Cope** de Shubenacadie.

◀ Précédent

Suivant ▶



1760



Traité de paix et d'amitié remplaçant les traités de 1726 et 1749

Halifax

L'échange de fourrures contre des biens européens doit être équitable pour les deux parties. Signé par les Pescomody et les Wolastoqewiyik, et plus tard par les Mi'kmaq.


◀ Précédent

Suivant ▶



1760

1761



Traité de paix et d'amitié Fort Frederick (Saint-Jean) et Halifax

Le droit de récolter les poissons, le gibier, les fruits et les baies sauvages et de les vendre pour assurer leur subsistance. En 1999, **Donald Marshall Jr.** a été libéré de toute accusation de pêche illégale à cause de ce traité.

◀ Précédent

Suivant ▶

1762



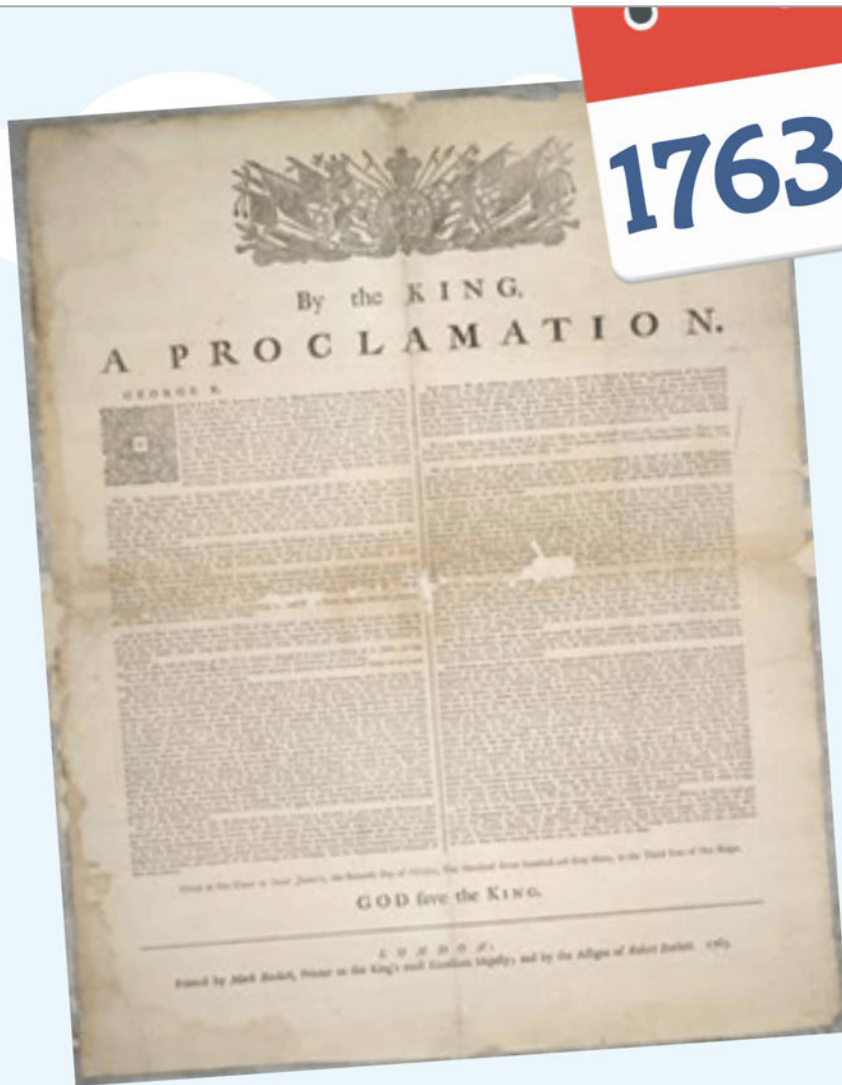
Proclamation de Belcher

(pas un traité)

Réservation de terres pour les
Mi'kmaq de Canso à la baie
des Chaleurs.

◀ Précédent

Suivant ▶



1763

**Proclamation royale
(pas un traité),
Londres, Angleterre**

Les terres autochtones
partout en Amérique du
Nord peuvent être achetées
ou vendues.

◀ Précédent

Suivant ▶



1776

Traité de Watertown Watertown, É.-U.

Les peuples autochtones établissent des relations avec les États-Unis d'Amérique. Les Wabanaki peuvent se joindre à l'armée américaine.

◀ Précédent

Suivant ▶





1779



Dernier traité de paix et d'amitié Baie des Chaleurs

- Signé par les Mi'kmaq du Cap-Tormentine jusqu'à la Baie des Chaleurs.
- Plus de guerres entre les Britanniques et les Mi'kmaq.
- Les Mi'kmaq n'allaient plus aider les Américains.

◀ Précédent

Suivant ▶






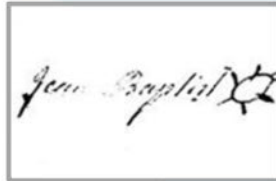
Dans les traités, il y a une chose dont on n'a jamais parlé. Quelle est-elle?

Précédent

Découvre-le



Glisse chaque image vers la case associée avec une date de traité.



1725

1749


1752

1760

1760 -
1761

1776

1779



◀ Précédent


Glisse chaque image vers la case associée avec une date de traité.

A timeline activity titled "Glisse chaque image vers la case associée avec une date de traité." The timeline consists of a chain of circles with the following dates: 1725, 1749, 1752, 1760, 1760-1761, 1776, and 1779. Below the timeline are seven image boxes, each with a green checkmark and a blue arrow pointing to a date on the timeline:

- 1725: Mascarene's Treaty of (with a landscape image)
- 1749: Jean Baptiste (with a signature image)
- 1752: (with a yellow map image)
- 1760: (with a historical scene image)
- 1760-1761: (with a portrait of a Native American image)
- 1776: (with a handshake image)
- 1779: (with two medals image)

Navigation buttons: "Précédent" (Previous) and "Continue" (Next).


Une de ces images représente une proclamation.
Peux-tu l'identifier?



◀ Précédent

Soumettre

Une de ces images représente une proclamation.
Peux-tu l'identifier?



Bravo! Tu as trouvé
la proclamation!

◀ Précédent

Continue ▶

Une de ces images représente une proclamation.
Peux-tu l'identifier?



◀ Précédent

Soumettre

Une de ces images représente une proclamation.
Peux-tu l'identifier?



Bravo! Tu as trouvé
la proclamation!

◀ Précédent

Continue ▶

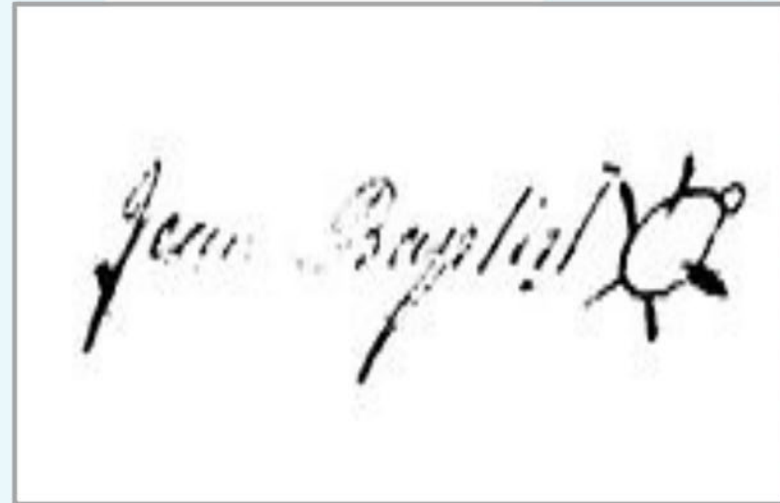
Une de ces images représente une proclamation.
Peux-tu l'identifier?



◀ Précédent

Soumettre

Une de ces images représente une proclamation.
Peux-tu l'identifier?

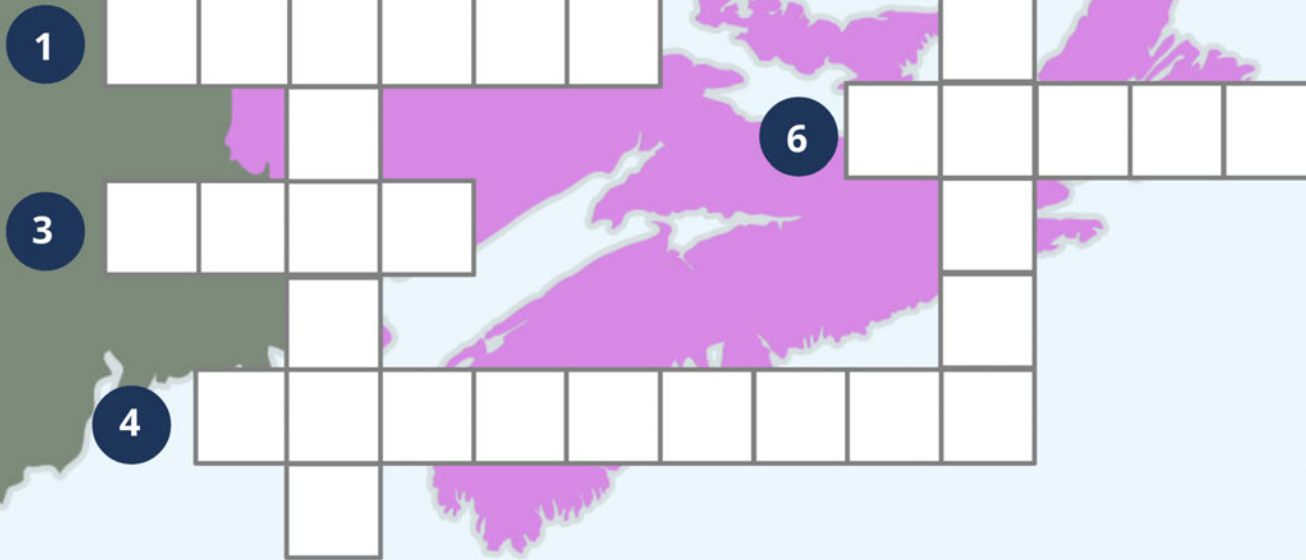


Bravo! Tu as trouvé
la proclamation!

◀ Précédent

Soumettre

Maintenant, complète le mots-croisés avec tous les termes de traités que tu as appris.

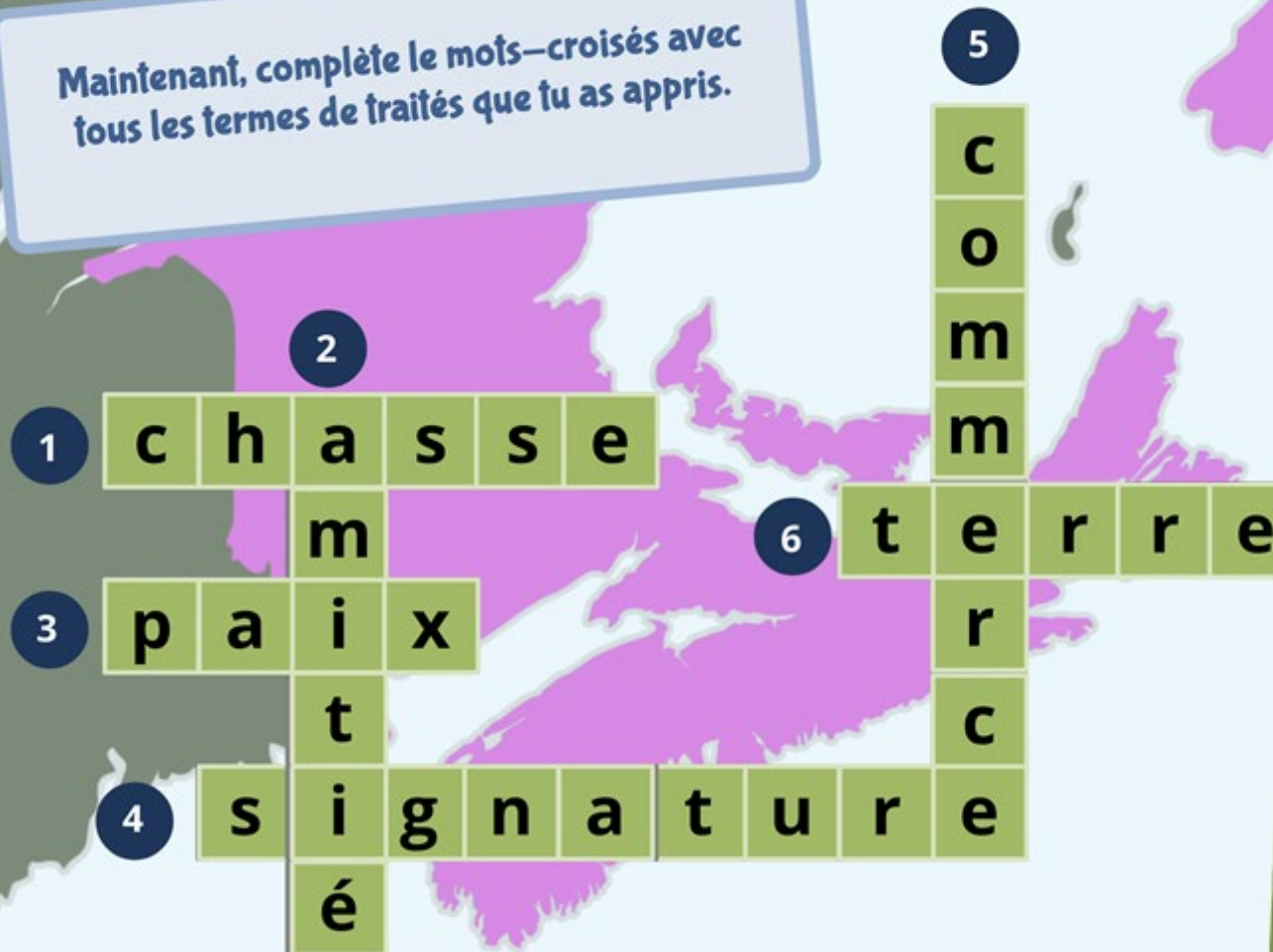


- 1
- 2
- 3
- 4
- 5
- 6

◀ Précédent

Soumettre

Maintenant, complète le mots-croisés avec tous les termes de traités que tu as appris.



Bravo!
Tu connais
bien
tes traités!

← Précédent

Suivant →

Félicitations!

Tu comprends maintenant beaucoup mieux la chaîne
des Traités de paix et d'amitié.

Veux-tu essayer à nouveau?
Clique sur le bouton ci-dessous!

Essaie de
nouveau! ➤